

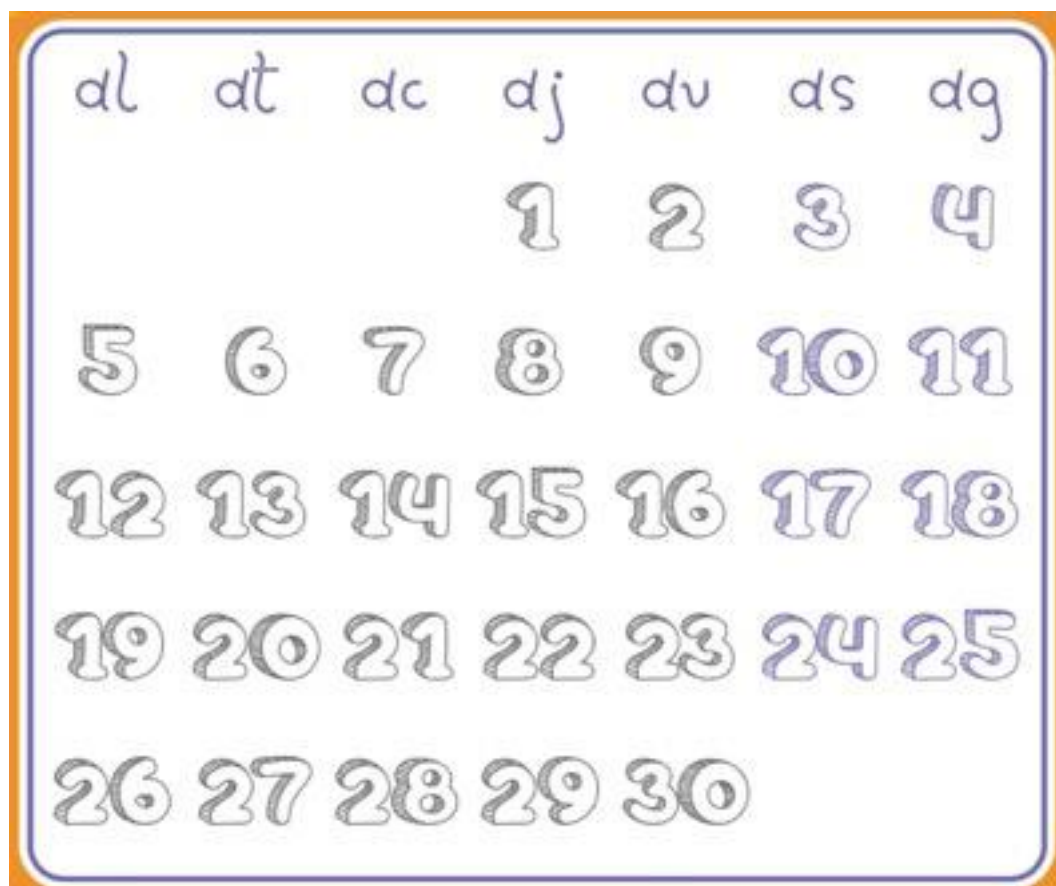
Nom i cognom: _____

Data: _____

UNITAT 1: ON HI HA NOMBRES?


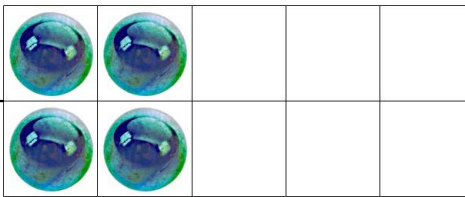


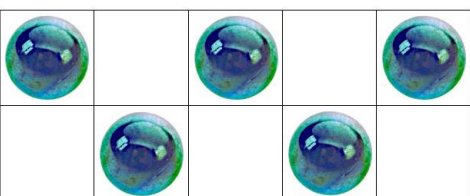

1. Pinta en el calendari:

- Cada primer dia de la setmana de color blau.
- Cada darrer dia de la setmana de color verd.



- Cada setmana vaig _____ dies a l'escola.
- El cap de setmana té _____ dies.







2. Compta quantes n'hi ha en cada grup i escriu-ho:

4		
		
		


3. En Pol té 5 galetes en una banda i 3 galetes en una altra. Quantes galetes té en total?



6. Compta i escriu els punts que hi ha en cada fitxa de dòmino:

					
5					

7. Omple aquest telèfon amb els números que hi falten:




UNITAT 2: ON HI HA FIGURES GEOMÈTRIQUES?

Encercla amb color vermell els objectes que tinguin la cara plana i amb color verd els objectes que tinguin la cara corba.



Exercici número 2

L'Àlvar està jugant amb sis peces de Lego que tenen forma de quadrat i forma de rectangle. Dues d'aquestes peces són de color vermell, una és de color blau i tres són de color verd. Dibuixa la construcció que podria estar fent l'Àlvar.



Exercici número 3

Observa les boles de billar següents.



- Quantes boles de billar hi ha? _____
- Quina figura geomètrica et recorden aquestes boles? _____
- Les boles, tenen la cara plana o corba? _____
- Anomena altres objectes o joguines que tinguin la cara corba: _____

Exercici número 4

Observa aquests gelats:



– Quina figura geomètrica et recorda el cucurutxo del gelat?

I la bola de gelat, quina figura et recorda? _____

– Pensa altres aliments (fruites, verdures, tipus de galeta...) que et recordin figures geomètriques i escriu-los.

Exercici número 5

Observa la imatge i respon:



- Quantes pedres veus? _____**
- Quantes en falten perquè n’hi hagi deu? _____**
- Si traiem una pedra, quantes ens en quedaran? _____**
- I si en traiem dues? _____**

Exercici número 6

Els pares de la Júlia tenen dues gallines. Entre totes dues, han post dotze ous. Pensa quants ous poden haver post cada una de les gallines i dibuixa'ls.

<input type="text"/>	<input type="text"/>	<input type="text"/>	<input type="text"/>
	+		= 12

<input type="text"/>	<input type="text"/>	<input type="text"/>	<input type="text"/>
	+		= 12

<input type="text"/>	<input type="text"/>	<input type="text"/>	<input type="text"/>
	+		= 12

<input type="text"/>	<input type="text"/>	<input type="text"/>	<input type="text"/>
	+		= 12

UNITAT 3: QUÈ ÉS MÉS LLARG?

Mesura els braços i les cames d'aquest xicot.



Quina d'aquestes dues parts del cos és més llarga? _____

Exercici número 2

Observa aquesta imatge:



- De qui creus que és la mà més petita: d'un nen o d'un adult?

- Quantes mans petites creus que necessitaríem per aconseguir la grandària de tota la mà de l'adult? _____

- Quina de les dues mans s'assembla més a la teva mà? _____

- Quina de les dues mans s'assembla més a la mà del teu pare?







Exercici número 3

Quantes passes fa d'ample la teva habitació? I de llarg? Mesura-la. Dibuixa la teva habitació en aquest requadre.

Exercici número 4


Dibuixa, en cada plat o en cada got, el nombre de pedretes corresponent.

Suma les pedretes de cada fila i escriu el nombre resultant.

		SUMA DE PEDRETES	
			
10 PEDRETES	+	3 PEDRETES	
			
10 PEDRETES	+	5 PEDRETES	
			
10 PEDRETES	+	7 PEDRETES	

Exercici número 5

Observa aquestes figures i contesta les preguntes.



- Quants costats té la figura que en té més? _____
- I la figura que en té menys? _____. Saps quin nom rep?

- Quina d'aquestes figures no té cap costat? _____

Exercici número 6

En Pau ha anat a la botiga de llaminadures i ha comprat uns quants caramels. En total, li han costat 15 cèntims. Encercla les monedes que ha hagut d'utilitzar en Pau per poder comprar aquests caramels.



Exercici número 7

Dibuixa la figura corresponent per continuar la sèrie:

1

2

3

4

5



UNITAT 4: ON ESTÀ SITUAT?

Exercici número 1

Observa aquesta imatge i fes l'activitat de sota:



- Classifica aquestes parts i aquests complements de la casa segons que estiguin situats a la primera planta, a la segona o a la tercera. Segueix l'exemple:

Tres plantes grans, dos balcon, el pàrquing, una finestra petita, plantes petites.

Primera planta	Segona planta	Tercera planta
Una porta d'entrada	Quatre balcon	Una terrassa
_____	_____	_____
_____	_____	_____

Exercici número 2

Ajuda el conill a arribar a les tres pastanagues.

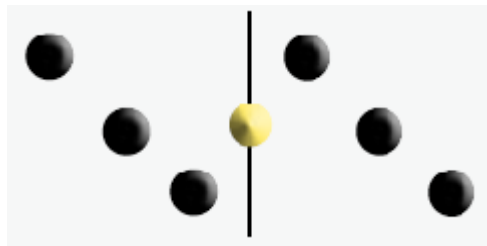
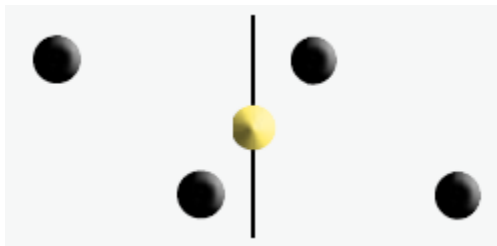


- De quantes maneres pot arribar el conill a les pastanagues: d'una o més d'una? _____

- On hi ha més flors blaves: a dalt de tot del laberint o a baix de tot?

Exercici número 3


Suma els punts d'aquestes peces de dòmino i escriu el resultat.



$$\square + \square + \square + \square = \square$$

Exercici número 4

Observa aquest mapa i respon a les preguntes de sota:



- Quants cotxes hi veus? _____
- Creus que tots els cotxes van cap al mateix lloc? _____
- Per què? _____
- On estan situats els vaixells?

Exercici número 5

Dibuixa els objectes que vulguis a la taula. Escriu on els has dibuixat.



A sobre de la taula	A sota de la taula
<hr/>	<hr/>
<hr/>	<hr/>
<hr/>	<hr/>
<hr/>	<hr/>
<hr/>	<hr/>
<hr/>	<hr/>
<hr/>	<hr/>
<hr/>	<hr/>
<hr/>	<hr/>
<hr/>	<hr/>
<hr/>	<hr/>
<hr/>	<hr/>

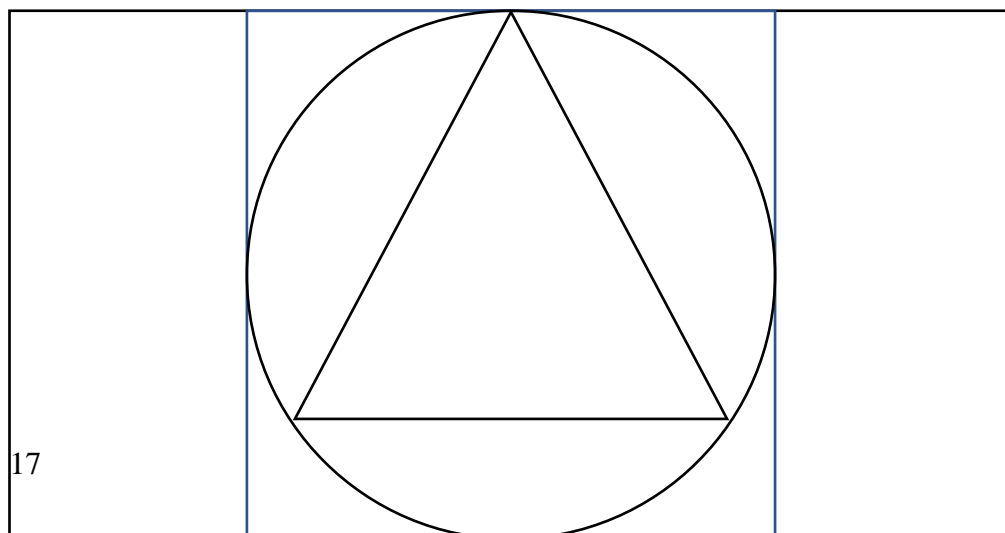
UNITAT 5: QUINA FORMA TENEN?

Dibuixa un objecte que s'assembli a cada un d'aquests.

OBJECTE	OBJECTE QUE S'HI ASSEMBLA
	
	

Quines diferències trobes entre els objectes de la part de dalt i els objectes de la part de baix?


Exercici número 2



Quines figures identifiqués en aquest dibuix?

Exercici número 3

Dibuixa les figures anteriors per separat i de manera desordenada.



Exercici número 4

Fes un caminet que tingui una forma divertida des del número escrit en lletres fins al número escrit en xifres. Ressegueix amb llapis els números escrits en lletres.

DISSET		16
SETZE	17	
DINOU		19
VINT-I-U	20	
VINT		21
DIVUIT	18	
		22
VINT-I-DOS		

Exercici número 5

La Clara i en Pere viuen al carrer Tramuntana i les seves cases estan de costat. Si en Pere viu a la casa número 16, a quin número pot viure la Clara?

Exercici número 6

Observa i descobreix els resultats de les sumes de dins els requadres.

$$\text{soccer ball} + \text{soccer ball} + \text{soccer ball} = 9$$

$$\text{basketball} + \text{basketball} + \text{basketball} = 6$$

$$\text{basketball} + \text{soccer ball} + \text{basketball} = \underline{\quad}$$

$$\text{basketball} + \text{soccer ball} + \text{soccer ball} = \underline{\quad}$$